

## दस की कक्षा

\* 0 1, 2, 3, 4, 5, 6, 7, 8, 9

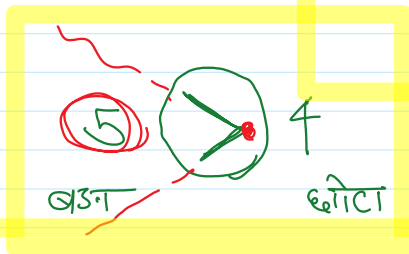

गाणित में सामान्यतः दस अंक होते हैं, 0 से 9 तक

1	11	21
2	12	:
3	:	:
4	13	:
5	14	:
6	:	100
7	:	101
8	:	102
9	20	103
		----- 109
		(110)

लाख, करोड़

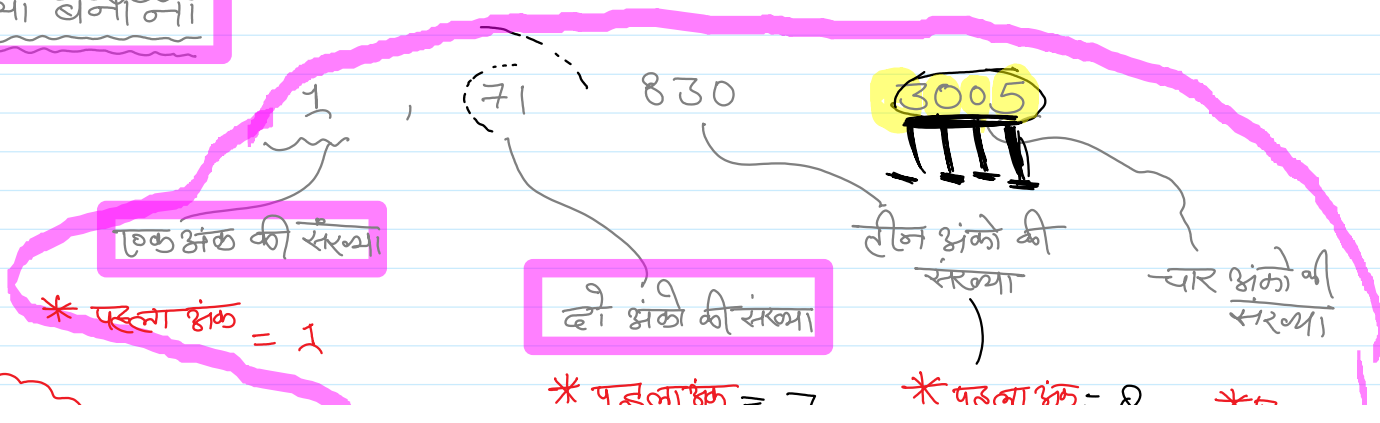
0, 1, 2, 3, 4, 5, 6, 7, 8, 9

बड़ा जोन छोटा जोन



>	<			
(A)	(B)	0	B	4
		3	A	2
		8	B	27
			73	B
			83	B
			85	A
			77	77
			84	84
			37	37

संख्या बनाना



\* पहला अंक = 1

दो अंकों की संख्या

संख्या

\* पहला अंक = 7

\* पहला अंक = 8

\* पहला = 3

\* दूसरा अंक = 1

दूसरा अंक = 3

दूसरा = 0

तीसरा अंक = 0

तीसरा = 0

चौथा = 5

854300890 ← कितने अंकों की संख्या

→ सातवां अंक = 8

= 9 अंकों की संख्या

बायां भाग  
दयां भाग  
कितना

छठवां अंक = 0

854300890

कितने की ओर मुँह



जमीनी दाय (जिससे खाना खाते हैं)  
(दायां हाथ)

अंक पढ़ते समय  
दाय से दाय की  
ओर पढ़ते हैं

बायां हाथ

बायां

854300890

दायां



अंकों की खेड़ा बायीं ओर से  
गिनना चाहिए

\* पांचवाँ स्थान = 0  
अंक

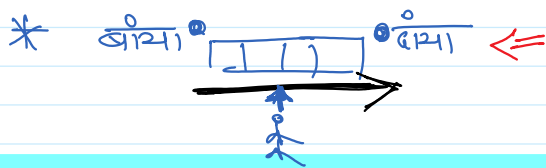
8 5 4 3 0 0 . 8 9 0  
① ② ③ ④ ⑤

\* कुल दस अंक होते हैं (0-9) ; उससे ही अलग अलग संख्याएँ बनती हैं

\* किन्तु - 2 अंकों की संख्याएँ ; दो अंकों संख्या, 8 अंकों संख्या (80003516)

\* बायां ..... दायां

\* अमूल्य - 2 अंकों का संख्या; दा. अंकों संख्या, 8 अंकों संख्या (8 0003516)



अंकी का स्थान हमेशा बाये से शुरू करते हैं

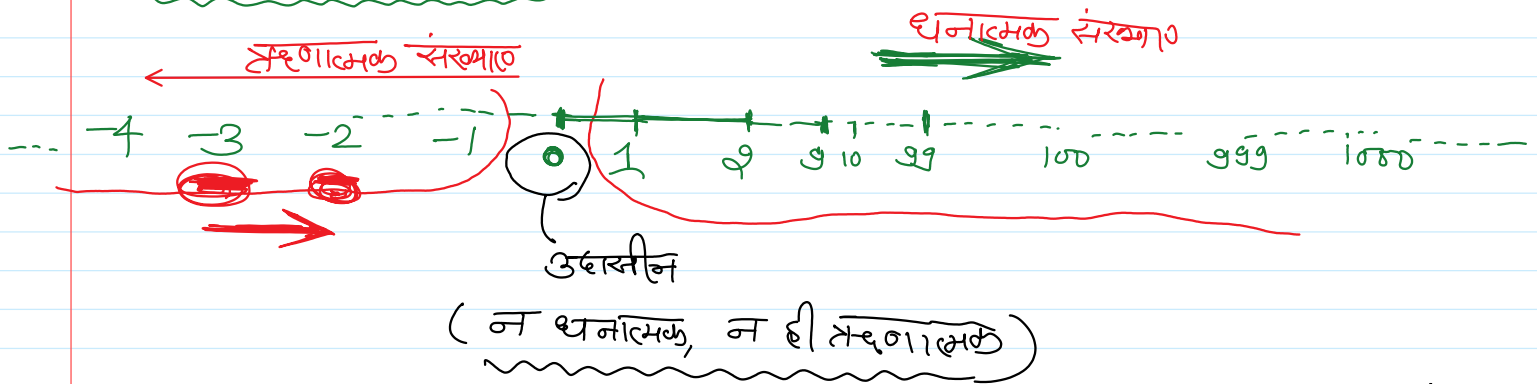
\* ~~008~~ में अंको की संख्या  $\Rightarrow$  एक अंक की

\* ~~080~~ में अंको की संख्या  $\Rightarrow$  दो अंको की

\* ~~0008000~~ में अंको की संख्या  $\Rightarrow$  चार अंको की संख्या

कभी भी सबसे पहले (भाग) बाये शून्यो को नहीं गिना जाता

कौन कौन कौन बोला



संख्या रेखा पर बाये से दाये की ओर जाने पर संख्या बढ़ती जाती है।  
इधर बड़ी संख्या मिलती है।

\*  $0 < 1 < 2 < 3 < 4 \dots$

\*  $-1 < 0 < 1$

\*  $-1 < 1$

\*  $-3 < -2$  (बड़ा)  $\rightarrow$   $-1$

\*  $-3 < -2$


\*  $-1 < 1$

\*  $-4 < -5$

\* -4 < 0

-4 < 0

-4 > -5



### एक अंको की संख्याओं की तुलना


\* 1 < 5

\* 7 > 6

\* 9 > 8

\* 8 > 3

### दो अंको की संख्या



\* एक अंक की सबसे बड़ी संख्या = 9

\* दो अंक की सबसे छोटी संख्या = 10

10, 11, 12, 13 - - - - 19, 20, 21, - - - - 89, 90 - - - 98, 99, 100

दो अंको की

तीन अंको की संख्या

100 101 102 - - - -

तीन अंको की शुरु होती है.

\* दो अंको की सबसे बड़ी संख्या = 99

\* तीन अंको की सबसे छोटी संख्या = 100

11 वा बच्चा को सबसे बड़ा बच्चा = 11  
 \* तीन अंको की सबसे छोटी संख्या = 100

100, 101, ... 110, 111, ... 201, ... 300, 301, ...

900, 901, ... 990, 991, ... 998, 999, 1000

← तीन अंको की संख्या      → चार अंको

\* तीन अंको की सबसे बड़ी संख्या = 999  
 \* चार अंको की सबसे छोटी संख्या = 1000

1000, 1001, 1002, ... 1009, 1010, ... 9999

9990, 9991, ... 9998, 9999, 10000

चार अंको की सबसे बड़ी संख्या

पांच अंको की सबसे छोटी संख्या

0 — 9 ← एक अंक की  
 10 — 99 ← दो अंक की  
 100 — 999 ← तीन अंक की  
 1000 — 9999 ← चार अंक की  
 10000 — ... ← पांच अंक की

3 < 63

एक अंक      दो अंक

\* दोनों संख्याओं में पहले अंको की संख्या बढते हैं, जिसमें अंको की संख्या बढती, वो संख्या बढती

एक अंक संख्या

दो अंकों की संख्या

C, जिसमें अंकों की संख्या बड़ों, वो संख्या बड़ी

(A) 87345 (B) 8734567

5 अंकों की संख्या

सात अंकों की संख्या

⇒ B संख्या में अंकों की संख्या ज्यादा है, A के अंकों की संख्या से

∴ B संख्या बड़ी होगी

∴ — इतनी  
∴ — चुंकि

\* 63 < 87  
दो अंकों की संख्या

दो अंकों की संख्या

6 < 8

\* जब भी समान अंकों की संख्या की तुलना करनी हो तो जिसमें पहला अंक बड़ा वो बड़ी संख्या

\* 63 < 87 (8 > 6)

(A) 132 (B) 123  
→ →

\* ① अंकों की संख्या बनी  
A = 3, B = 3

दूसरा अंक A > B

∴ संख्या

A > B

② यदि अंकों की संख्या समान हो जाए तो पहला अंक देखते हैं, जिसका पहला अंक बड़ा वो बड़ी संख्या  
⇒ लेकिन पहला अंक भी समान है

③ जब पहला अंक समान हो तो दूसरा अंक की तुलना

(3) जब पहले अंक समान हो तो दूसरे अंक की तुलना  
— बड़ा वो बड़ी संख्या

\* इसी प्रकार चलते रहते हैं

\* (A) 8 3 4 5 6 7 8 9 10 5 6 7  $\leftarrow$  8 5 3 2 4 6 8 0 0 0 9 8 7 6

13 अंक 14 अंक

\* 8 3 4 3 5 6 7  $\leftarrow$  1 2 3 4 5 6 7

7 अंक 7 अंक

\* 8 0 0 3  $\leftarrow$  8 0 0 4

4 अंक 4 अंक

\*  $3 < 4$   
∴ संख्या 8  
बड़ी होगी

### प्रयास कीजिए

क्या आप तुरंत ज्ञात कर सकते हैं कि प्रत्येक पंक्ति में कौन सी संख्या सबसे बड़ी है और कौन सी संख्या सबसे छोटी है?

1. 382, 4972, 18, 59785, 750      उत्तर : 59785 सबसे बड़ी है और 18 सबसे छोटी है।
2. 1473, 89423, 100, 5000, 310      उत्तर : \_\_\_\_\_
3. 1834, 75284, 111, 2333, 450      उत्तर : \_\_\_\_\_
4. 2853, 7691, 9999, 12002, 124      उत्तर : \_\_\_\_\_

### प्रयास कीजिए

प्रत्येक समूह में सबसे बड़ी और सबसे छोटी संख्याएँ ज्ञात कीजिए:

- (a) 1526    1902    1270    1152      (b) 15622    15072    15190    15900

प्रत्येक समूह में सबसे बड़ी और सबसे छोटी संख्याएँ ज्ञात कीजिए:

(a) 4536, 4892, 4370, 4452      (b) 15623, 15073, 15189, 15800

(c) 25286, 25245, 25270, 25210      (d) 6895, 23787, 24569, 24659

इसी प्रकार के पाँच प्रश्न और बनाइए और हल करने के लिए अपने मित्रों को दीजिए।